


どうぶつえんに いる どうぶつの 数を 数えました。  
次の絵を見て 答えましょう。



① どうぶつの 数を 下の グラフに  
○をつかって あらわしましょう。

どうぶつの 数

|    |    |     |    |
|----|----|-----|----|
|    |    |     |    |
|    |    |     |    |
|    |    |     |    |
|    |    |     |    |
|    |    |     |    |
|    |    |     |    |
|    |    |     |    |
|    |    |     |    |
|    |    |     |    |
|    |    |     |    |
| ぞう | とら | きりん | さい |




② とらと きりんは どちらが 何とう  
多いですか。

③ グラフに あらわすと 分かりやすい  
ことを 下の □ から えらんで  
記ごうで 答えましょう。

☆グラフに あらわすと  
分かりやすいこと

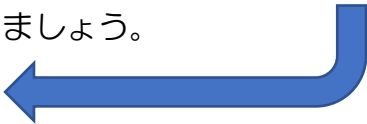
- ア 生きものが かわいいか どうか  
分かりやすい
- イ かいたい 人の 数が 分かりやすい
- ウ かいたい人の 数の 多い 少ないが  
分かりやすい

どうぶつえんに いる どうぶつの 数を 数えました。  
次の絵を見て 答えましょう。



① どうぶつの 数を 下の 表に かきましょう。

どうぶつの 数



| どうぶつ | ぞう | とら | きりん | さい |
|------|----|----|-----|----|
| 数    |    |    |     |    |

② どうぶつは、ぜんぶで 何とう  
いますか。

③ 7とう いる どうぶつは 何ですか。

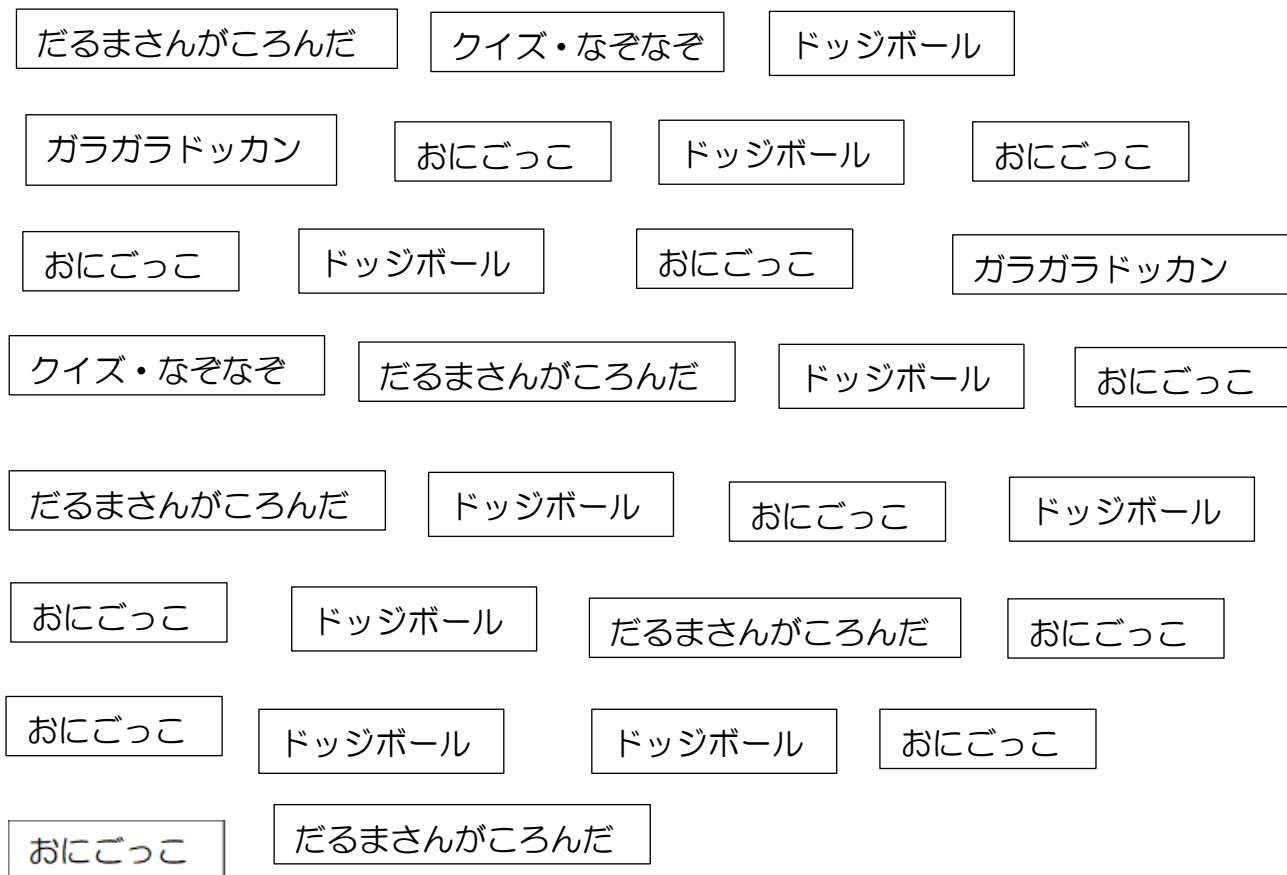
④ ひょうに あらわすと 分かりやすいことを 下の  から えらんで 記ご  
うで 答えましょう。

☆ひょうに あらわすと 分かりやすいこと……

- ア 生きものが かわいいか どうか 分かりやすい
- イ かいたい 人の 数が 分かりやすい
- ウ かいたい人の 数の 多い 少ないが 分かりやすい



【戸河内小学校 すきなあそび アンケートの けっか】



|            |    |          |   |
|------------|----|----------|---|
| おにごっこ      | 11 | ドッジボール   | 9 |
| ガラガラドッカン   | 2  | クイズ・なぞなぞ | 2 |
| だるまさんがころんだ | 5  |          |   |