





いままでみたいに、タイル
いくつぶんかで くらべたよ！

こっちは、タイル
9まいぶんだね。



こっちは、タイル
4まいぶんだね。




あれ。このくらべかたで いいのかな。
①おともだちと まちがいをさがそう。
②どうすればいいのか、正しくやりなお
してみよう。






いままでみたいに、タイル
いくつぶんかで くらべたよ！

こっちは、タイル
9まいぶんだね。



こっちは、タイル
7まいぶんだね。



あれ。このくらべかたで いいのかな。


- ①おともだちと まちがいをさがそう。
- ②どうすればいいのか、正しくやりなおしてみよう。



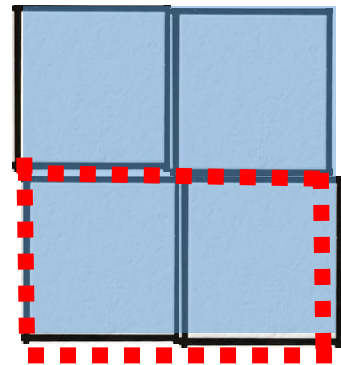


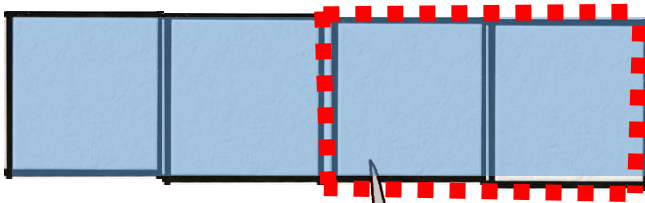
かたちがちがっても広さは同じ



ひろさとリゲームでのはんていをするよ！
この2つは，おなじひろさなんだよ！



こうしたら…。ほら。



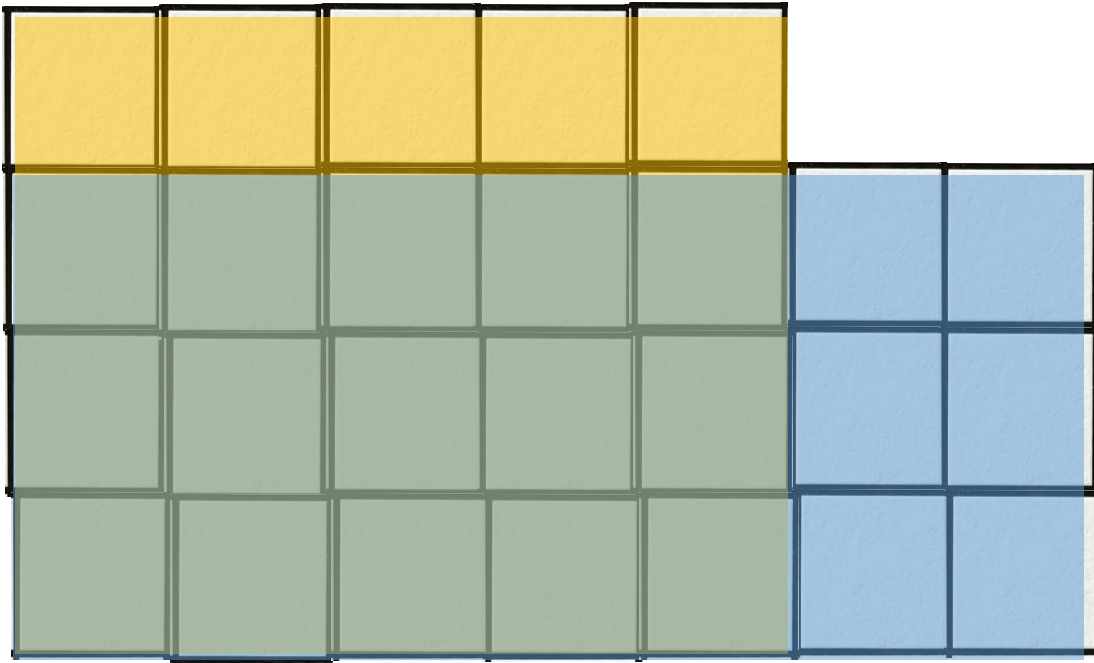
どうして おなじひろさだと わかるのかな？
わけを かんがえてみよう。



メイン課題



ひろさとリゲームでのはんていをするよ！
どちらがひろいか、かさねてみよう！



サイズ

3×7

4×5

※子どもには
はタイルつ
けません

あれ。かさねても、どちらも
はみでているところがあって、
わからないね…。

